

1 Deux chariots avec Second Aller-Retour

Un chariot automatisé est un robot qui se déplace de façon autonome sans l'intervention humaine. Ils sont le plus souvent utilisés dans des applications industrielles pour déplacer de manière autonome des marchandises dans une usine, un entrepôt, un atelier mais aussi des hôpitaux, musées, aéroports...



Figure 1 – Chariot automatisé

Un appui sur le bouton-poussoir **m** provoque la mise en marche de **D1** et de **D2** si le chariot **C1** est en **A1** et le chariot **C2** est en **A2**. Les deux chariots font un aller-retour. Le premier chariot qui revient à son point de départ effectue seul un second aller-retour. Si les deux chariots reviennent à leur point de départ au même instant, ils effectuent tous les deux un second aller-retour.

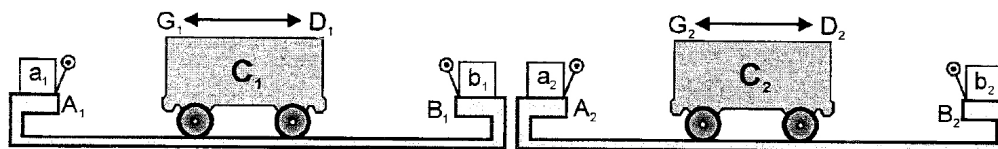
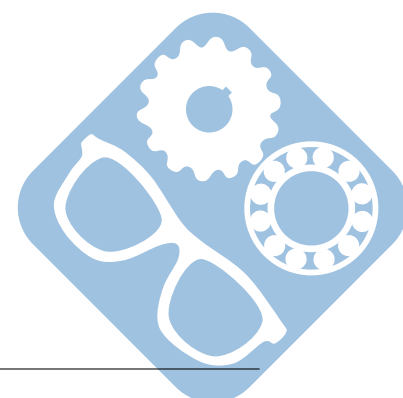
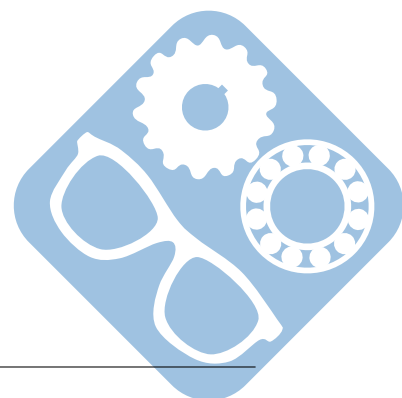


Figure 2 – Installation des chariots

Question 1 : Déterminer le diagramme d'activité de ce système.





2 Château d'eau

Un château d'eau est une construction destinée à entreposer l'eau, et placée en général sur un sommet géographique pour permettre de la distribuer sous pression.

L'entreposage de l'eau dans un réservoir joue un rôle de tampon entre le débit demandé par les abonnés et le débit fourni par la station de pompage. Il permet ainsi d'éviter de démarrer trop souvent les pompes et de les protéger. Une telle réserve permet également de faire face aux demandes exceptionnelles en cas d'incendie.

Un château d'eau est alimenté par trois pompes **P1**, **P2** et **P3** en fonction de l'état des trois détecteurs de niveau **h1**, **h2** et **h3**. Un détecteur de niveau est à l'état 1 s'il est noyé.



Figure 3 – Château d'eau

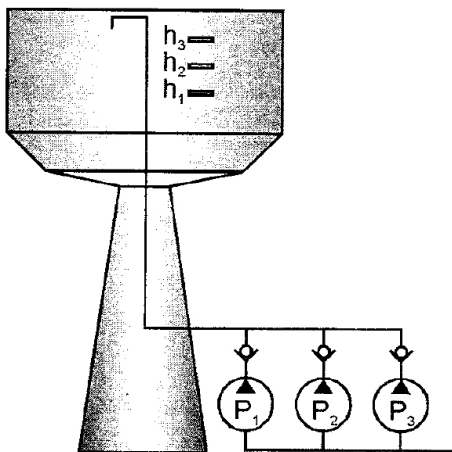


Figure 4 – Château d'eau

Cahier des charges n°1 :

Un interrupteur **m** permet de mettre en fonctionnement l'installation.

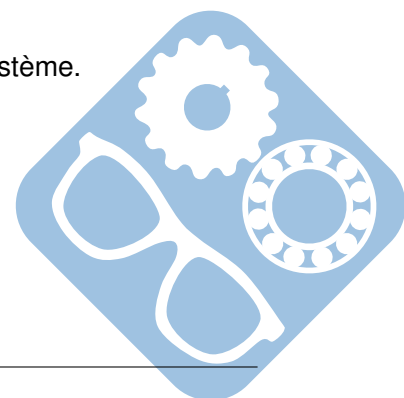
La pompe **Pi** est en fonctionnement si l'interrupteur **m** est actionné et si le détecteur de niveau **hi** n'est pas noyé.

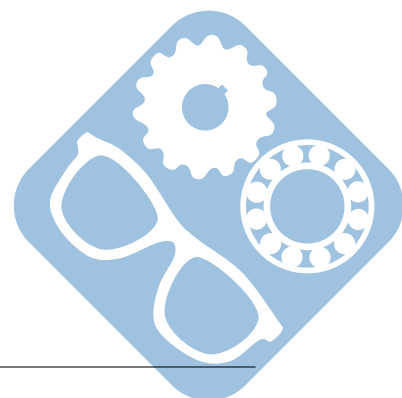
Question 1 : Établir le diagramme d'activités point de vue partie opérative du système.

Cahier des charges n°2 :

Le fonctionnement, décrit précédemment, fait apparaître une utilisation excessive de la pompe **P3** ce qui provoque son échauffement et diminue sa durée de vie. Pour éviter ces inconvénients, on décide d'effectuer une permutation circulaire de l'utilisation des pompes, à chaque front montant de **h3** ou de l'interrupteur **m**.

Question 2 : Établir le diagramme d'activités point de vue partie opérative du système.





3 Tableau de classe motorisé

Dans une salle de classe on désire installer un tableau double à commande électrique.

Le dispositif est le suivant :

- Un moto-réducteur **MR** commande une vis sans fin actionnant le tambour sur lequel un câble s'enroule.
- Le câble est lié au tableau avant **av** et au tableau arrière **ar**.
- Le moteur est commandé par un contacteur marche-avant **CH** pour le sens **H** et un contacteur marche-arrière **CB** pour le sens **B**.
- Le bouton **m** permet la montée du tableau avant, tant qu'il est appuyé. Si on relâche **m** le tableau s'arrête.
- Le bouton **d** assure la descente du tableau avant, tant qu'il est appuyé. Si on relâche **d** le tableau s'arrête.




Figure 5 – Tableau d'amphithéâtre

Fonctionnement

- Le tableau avant se déplace vers le haut, lorsque le moteur tourne dans le sens **H**.
- Le tableau avant se déplace vers le bas, lorsque le moteur tourne dans le sens **B**.

Condition supplémentaire :

- L'action simultanée sur **m** et **d** provoque l'arrêt du moteur qui ne se remet en marche que lorsque l'un des deux boutons est libéré et dans le sens prescrit par celui qui reste appuyé.

Question 1 : Réaliser un schéma indiquant la position des tableau, des effecteurs et des capteurs.

Question 2 : Donner la table de vérité permettant de décrire le fonctionnement du système.


Question 3 : En déduire les équations logiques, puis les schémas à contacts, et enfin les logigrammes permettant de décrire le fonctionnement du système.

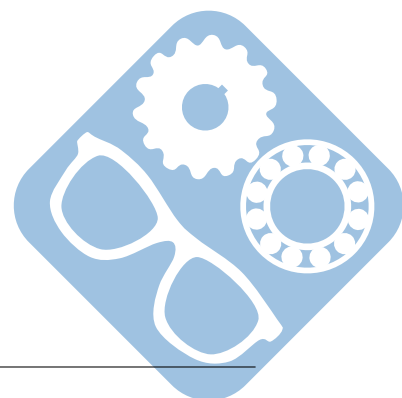
Question 4 : Donner le schéma de câblage :

- du circuit de commande (alimentation électrique continue 5V),
- du circuit de puissance (alimentation électrique triphasée 220V).

Prise en compte des butées : Pour éviter de détériorer les butées des tableaux ou de faire surchauffer le moteur, on rajoute des détecteurs de fin de course position haute **phav** pour le tableau avant et position haute pour le tableau arrière **phar**.

Question 5 : En déduire les nouvelles équations logiques et enfin les logigrammes permettant de décrire le fonctionnement du système.





4 Escalator avec contrôle d'accès

Dans une ambassade, afin d'assurer la sécurité et de contrôler le nombre de personnes qui rentrent, on les oblige à emprunter un escalier mécanique menant à l'étage où se situent les bureaux.

Dans cet escalier, une seule personne à la fois peut prendre place. Pour monter dans l'escalier, il faut que la personne franchisse un portillon à tourniquet semblable à ceux que l'on rencontre dans le métro.



Figure 6 – Tableau d'amphithéâtre

Le fonctionnement de cette machine est décrit ci-dessous :

1. Lorsqu'une personne franchit le portillon, elle pose le pied sur un tapis sensible **tb** placé en bas de l'escalier, aussitôt, l'escalier se met en marche **M**,
2. Dès que la personne pose un pied sur l'escalier, tout en gardant l'autre sur le tapis sensible, son poids est détecté par un capteur **c** qui indique la présence de la personne dans l'escalier. Dès que ce capteur **c** est activé, un verrou **V** réalisé avec un vérin à simple effet est commandé pour bloquer le portillon, et l'escalier continue de marcher **M**,
3. Tout le temps que la personne va être dans l'escalier, le verrou **V** sera activé, et l'escalier sera en marche **M**,
4. Dès que la personne arrive en haut de l'escalier, elle pose le pied sur un autre tapis sensible **th**, mais il faut qu'elle quitte l'escalier **c**, pour que celui-ci s'arrête de marcher, par contre le verrou **V** reste actif,
5. Enfin, lorsque la personne quitte le tapis sensible du haut **th**, le verrou **V** est désactivé,
6. Un tel cycle garantit qu'une seule personne à la fois puisse prendre l'escalier. Mais si par hasard, il arrivait un cas indésirable, alors toute action devrait être désactivée, afin d'assurer la sécurité et de réparer la panne.

Question 1 : Donner la table de vérité permettant de décrire le fonctionnement du système.

Question 2 : En déduire les équations logiques simplifiées, puis les schémas à contacts, et enfin les logigrammes permettant de décrire le fonctionnement du système.

